



حرر المحتوى

عنوان النشاط

همزتا القطع و الوصل

السؤال

1. هي الهمزة التي أرسم فوقها ر

الإجابات


ا همزة القطعب همزة الوصلج همزتا القطع والوصد هـ و 

السؤال



5. شكل همزة الوصل

الإجابات



أ - أ - إ




ا



ا




ب



ئ



ج



د



ه



و



+ إضافة سؤال

الحد الأدنى 1 الحد الأقصى 100

تم

تم حجب ٢ إعلانات

